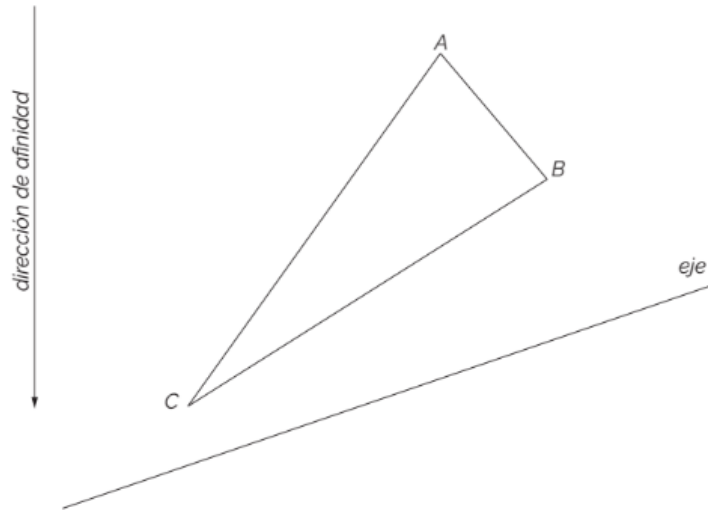
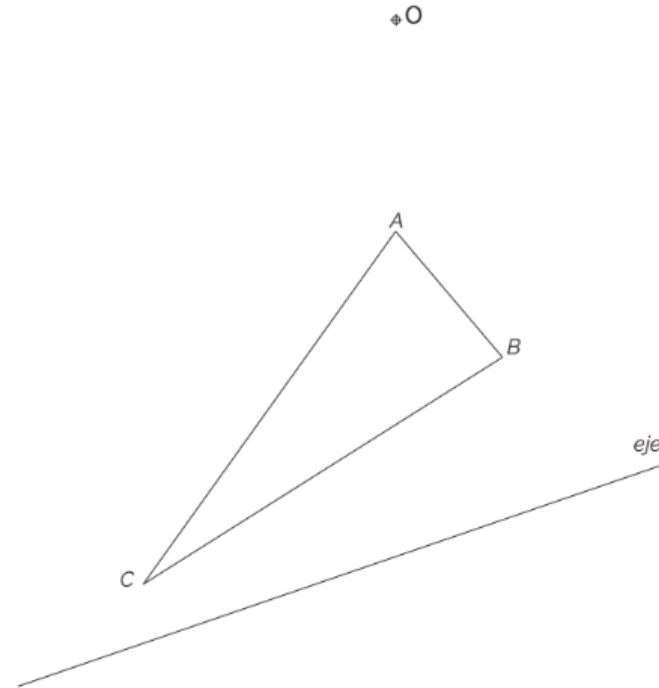


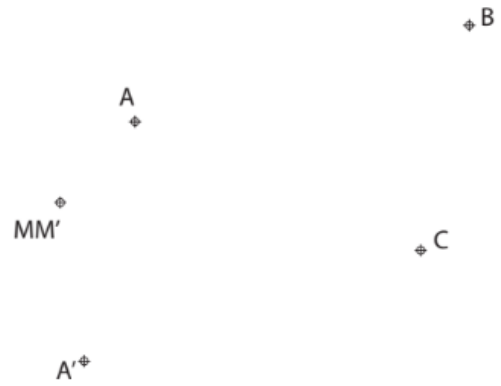
1. Traza la figura afín de ABC dado el eje, la dirección de afinidad y sabiendo que el ángulo afín de A es de 60° .



2. Traza la figura homóloga de ABC dado el eje, el centro de homología y sabiendo que el ángulo homólogo de A es de 60° .



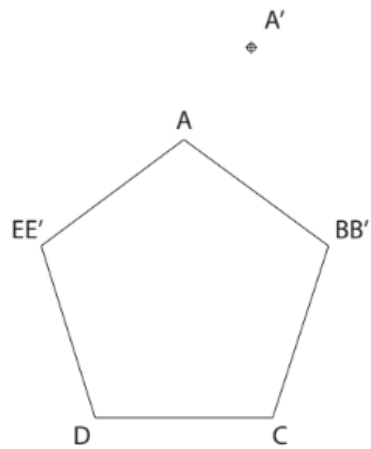
3. Traza la figura afín de ABC según una afinidad ortogonal dada la pareja de afines AA' y MM'.



4. Traza la figura homóloga de ABCD dada las parejas de homólogos AA', BB' y EE'.



5. Traza la figura afin de ABCDE dado el afin A', B' y E'.



6. Traza la figura homóloga de ABCDE dado el homólogo B' y C'.

